



XXI ОЛИМПИАДА МЛАДШИХ ШКОЛЬНИКОВ

12 февраля 2017г

Младшая группа, 1 класс.



Внимательно прочитайте условия задач. Решать вы можете в любом порядке. Ответ нужно записать на специальном бланке.

Задача 1. Петя зарисовал несколько кленовых листьев, а один из них принес домой. Под какой буквой рисунок Петиного листа?



А



Б



В



Г



Д



Задача 2. Вася завтракает дольше, чем Петя чистит зубы и моет уши. А кошка Мурка умывается столько же, сколько Вася завтракает. Кто быстрее закончит умываться – кошка Мурка или Петя?

Задача 3. Замените буквы цифрами от 1 до 7, чтобы неравенство было верным. Разные буквы – разные цифры.

$$С < Н < Е > Ж < И < Н > К > А$$

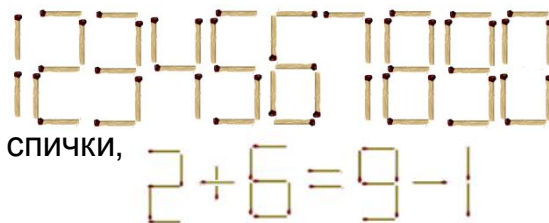
Задача 4. В очереди за мороженым стоят Маша, Катя, Тихон, Егор и Света. Известно, что Егор стоит впереди Тихона, а Катя позади Маши и впереди Светы. Каков порядок детей в очереди, если никакие две девочки не стоят рядом?

Задача 5. У Кроша двое часов. Одни из них спешат на 2 часа, другие – отстают на 1 час. Сколько сейчас времени, если часы показывают время, изображенное на рисунке?



Задача 6. Петя и Вася играли в морской бой на доске 6x6. Вася закрасил те клетки, где у Пети уже точно нет кораблей. У Пети еще есть один трехпалубный корабль . В какую клетку должен ударить Вася, чтобы наверняка ранить корабль Пети?

Задача 7. Тихон выкладывает из спичек цифры:



Он выложил верное равенство $2+6=9-1$. Переложите 2 спички, чтобы получилось другое верное равенство.

Задача 8. Вика, Настя и Соня учатся считать. У каждого из них есть 1 или 2 фантика.

Соня сказала: «У нас не меньше 5 фантиков»

Настя: «У меня и Вики поровну».

Вика: «У меня больше, чем у Сони».

Оказалось, что они все ошиблись. Сколько у кого фантиков?