




# XXVI ОЛИМПИАДА МЛАДШИХ ШКОЛЬНИКОВ

12 февраля 2023г

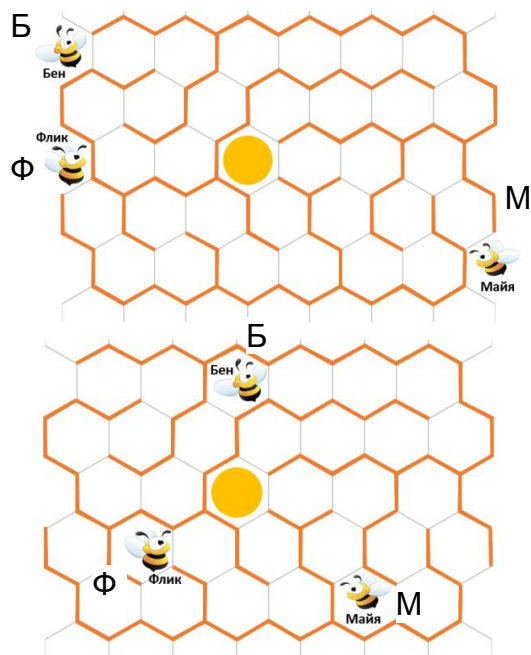
Младшая группа, 2 класс.

Внимательно прочитайте условия задач. Решать их вы можете в любом порядке. Ответы и решения нужно записать на специальном бланке.



**Задача 1.** Определите, сколько веревочек на рисунке слева.

**Задача 2.** Три пчелы одновременно зашли в лабиринт и начали лететь к меду. Через две минуты они уже были в следующих частях лабиринта. В каком порядке пчелы доберутся до соты с медом?


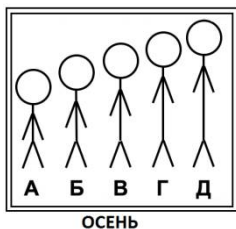


**Задача 3.** Гномы Глоин, Балин, Дори, Нори и Фили носят калоши размером 34, 35, 36, 37 и 38. Однажды после дождя они перепутали калоши. Глоин надел калоши 38 размера, а все остальные – на 2 размера больше или на 2 размера меньше. Кто какие калоши надел?

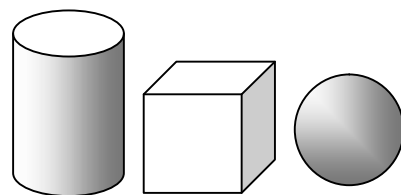
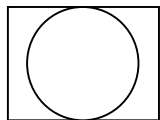
**Задача 4.** Замените буквы цифрами (одинаковые – одинаковыми, разные – разными) так, чтобы суммы букв одного цвета были равны.

ОЛИМПИАДА

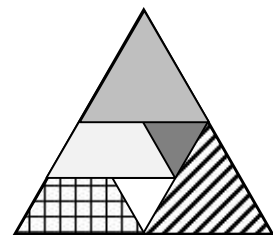
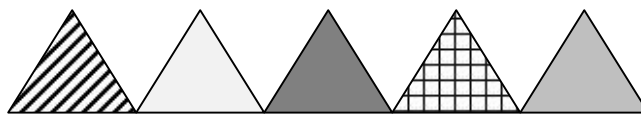
**Задача 5.** Братья Антон, Боря, Вова, Гриша и Дима выстроились по росту и сфотографировались весной. За лето каждый из них вырос по-своему: Гриша обогнал по росту ровно двоих братьев, Дима обогнал ровно одного брата, а остальные мальчики никого не переросли. Осенью мальчики ещё раз сфотографировались. Подпишите имена мальчиков на весенней фотографии.



**Задача 6.** У фокусника есть три деревянные геометрические фигуры: цилиндр, куб и шар (как на рисунке). Он поставил фигуры друг на друга и сфотографировал сверху. Изобразите, как выглядит эта конструкция спереди. (Сторона куба и диаметры шара, цилиндра одинаковы)



**Задача 7.** Пять треугольников по очереди уложили в большую треугольную рамку. Какой треугольник положили третьим по счёту?



**Задача 8.** У Волка, Лисы и Зайца три яблока разных размеров. Заяц сказал: «У меня самое маленькое яблоко». Волк: «Моё яблоко больше, чем у Лисы» Лиса: «У Зайца самое большое яблоко». Оказалось, что тот, у кого самое большое яблоко, соврал, а остальные сказали правду. У кого какое яблоко?