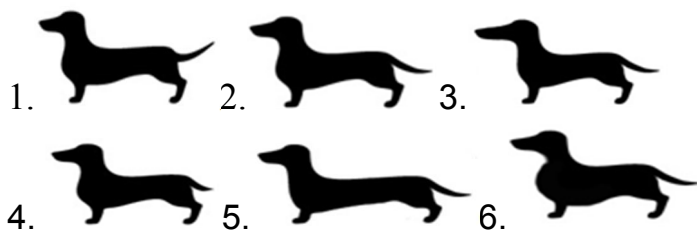


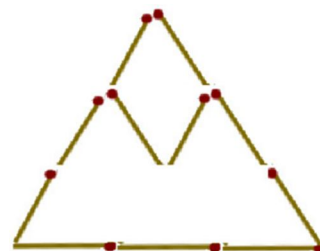
1. КЛАС

1. Сумата от годините на Таня, Маня и Ани през 2015 година е 12 години. Намерете сумата от годините им през 2017 година.
2. Числото 798 има три различни цифри. Намерете най-близкото число до 798, записано с три различни цифри.

3. Петър завел кучето си Динко на състезание. На кое място е Динко, Познайте по силуета му.

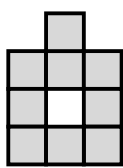


4. Нарисувайте редица от 10 фигури (квадрати и кръгове) така, че до всеки кръг да има само квадрати, а до всеки квадрат да има и кръг и квадрат.

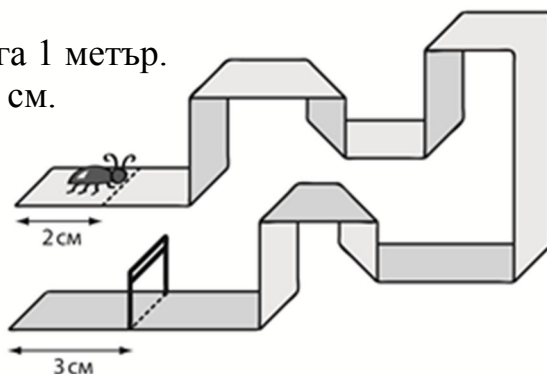


5. Преместете две кибритени клечки, че да получите три триъгълника без излишни клечки.

6. Иван иска да изяде две свързани квадратчета от шоколада (като плочка домино) без парчето да се разпадне на две части. По колко начина може да направи това?



7. Бръмбар пътува по лента дълга 1 метър. Стартира на 2 см. от началото и финишира на 3 см. от края на лентата. Ако бръмбарът тича по средата на лентата по права линия без да се връща, колко път е изминал?



8. Васил, Григор и Димо се състезавали със синя, червена и жълта коли. Колата на Димо минала през финала точно след жълтата, а червената кола финиширала веднага след колата на Васко. Чия кола и в какъв цвят е била първа, ако тя не е на Григор колата?