

XXI ОЛІМПІАДА МОЛОДШИХ ШКОЛЯРІВ

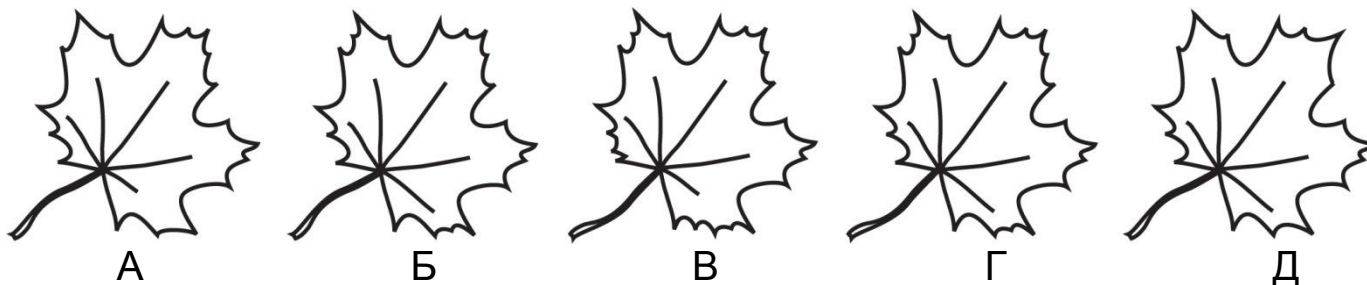
12 лютого 2017р

Молодша група, 1 клас.



Уважно прочитайте умови задач. Розв'язувати ви можете в будь-якому порядку. Відповідь треба записати на спеціальному бланку.

Задача 1. Петрик замалював декілька кленових листів, а один з них приніс додому. Під якою буквою малюнок Петрикового листа?





Задача 2. Вася снідає довше, ніж Петрик чистить зуби та миє вуха. А кицька Мурка вмивається стільки ж, скільки Вася снідає. Хто раніше закінчить вмиватися – кицька Мурка чи Петрик?

Задача 3. Замініть букви цифрами від 1 до 7, щоб нерівність була правильною. Різні букви – різні цифри.

$$С < Н < І > Ж < И < Н > К > А$$

Задача 4. В черзі за морозивом стоять Маша, Катя, Тихон, Єгор та Світланка. Відомо, що Єгор стоїть попереду Тихона, а Катя позаду Маші та попереду Світланки. Який порядок дітей в черзі, якщо ніякі дві дівчинки не стоять поруч?

Задача 5. У Кроша два годинники. Один з них поспішає на 2 години, другий – відстає на 1 годину. Котра зараз година, якщо годинники показують час, зображений на малюнку?



Задача 6. Петрик та Вася грали в морський бій на дошці 6x6. Вася зафарбував ті клітинки, де у Петрика вже точно немає кораблів. У Петрика ще є один трипалубний корабель . В яку клітинку повинен вдарити Вася, щоб напевно ранили корабель Петрика?

Задача 7. Тихон викладає з сірників цифри:



Він виклав правильну рівність $2+6=9-1$. Перекладіть 2 сірники, щоб вийшла інша правильна рівність.

Задача 8. Віка, Настя й Соня вчать рахувати. В кожній з них є 1 або 2 фантики.

Соня сказала: «У нас не менше 5 фантиків»

Настя: «В мене та Віки порівну».

Віка: «В мене більше, ніж у Соні».

Виявилось, що вони всі помилились. Скільки у кого фантиків?